

Check

2019年受験対策

計算問題集

(一発合格・短期合格)

1

The Check for students preparing
for the Licensed Tax Accountant examination

相続税法



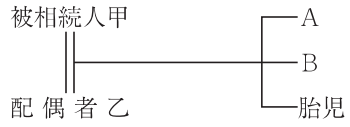
個別問題編

問題 1 相続人の判定

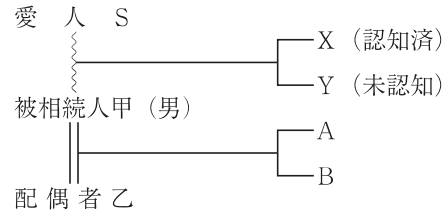
ランク 標準時間
B 5分

次の〈設例〉により相続人を求めなさい。

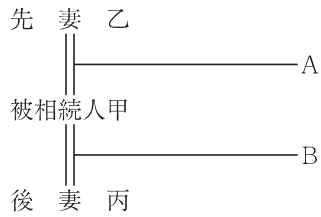
〈設例 1〉



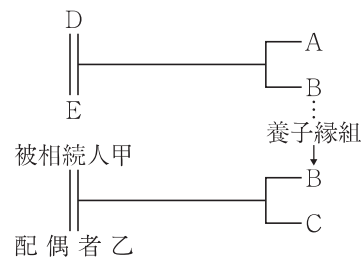
〈設例 2〉



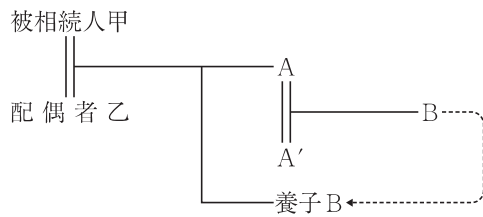
〈設例 3〉



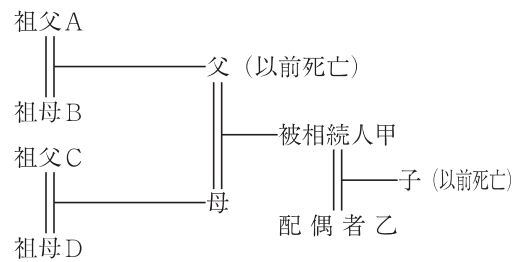
〈設例 4〉



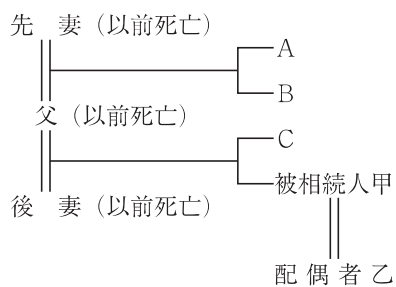
〈設例 5〉



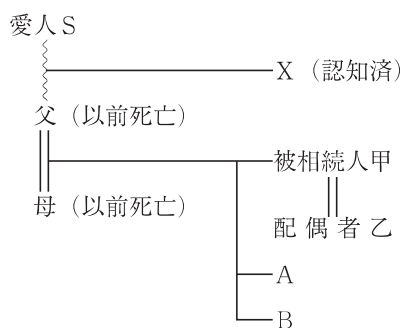
〈設例 6〉



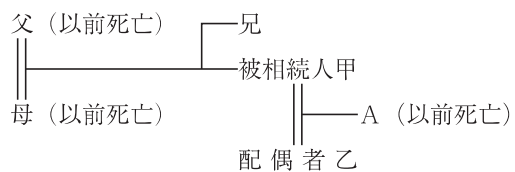
〈設例 7〉



〈設例 8〉



〈設例 9〉



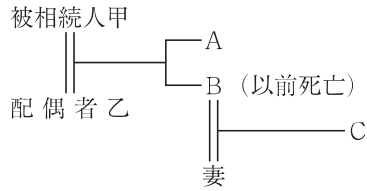
解 答 P. 78

問題 2 代襲相続人

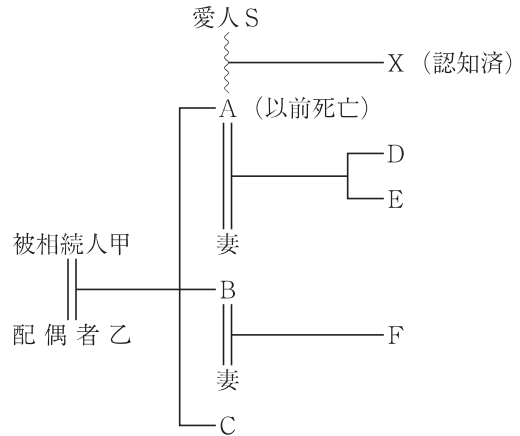
ランク 標準時間
B 3分

次の〈設例〉により相続人を求めなさい。

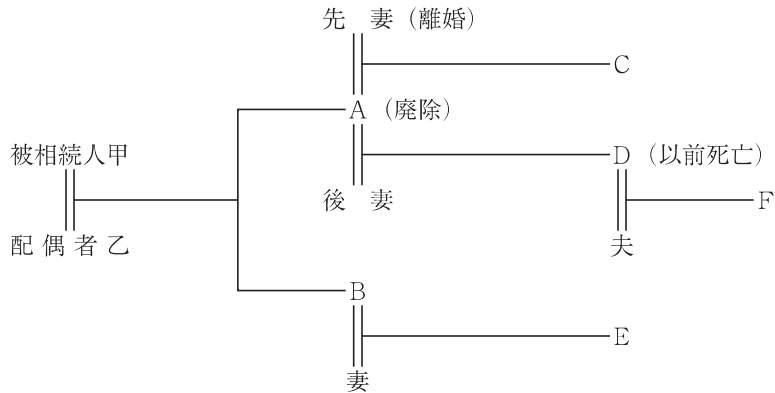
〈設例 1〉



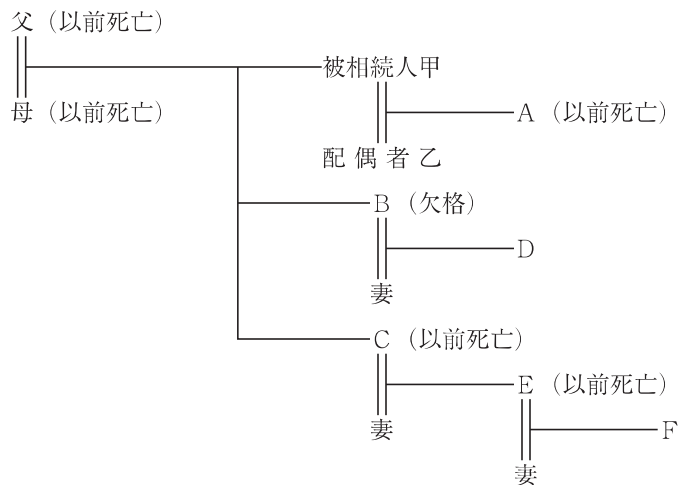
〈設例 2〉



〈設例 3〉



〈設例 4〉



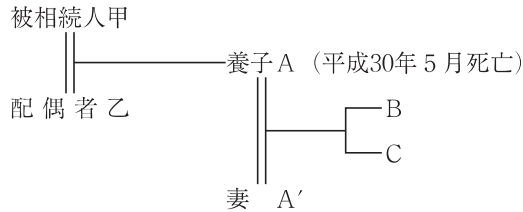
解 答 P. 78

問題 3 養子の子の代襲相続

ランク 標準時間
B 1分

次の設例に基づき、相続人に該当する者を判定しなさい。
なお、被相続人甲は、平成31年4月18日に死亡しているものとする。

〈設例〉



(注1) Aは、平成27年10月16日に被相続人甲及び配偶者乙と適法に養子縁組をしている。

(注2) Bは、平成26年5月6日に出生している。

(注3) Cは、平成29年3月27日に出生している。

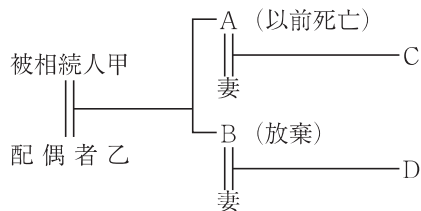
解 答 P. 79

問題 4 相続の放棄

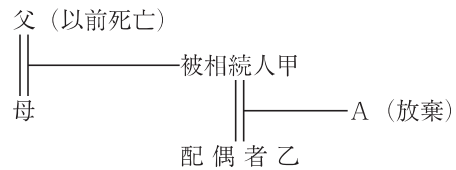
ランク 標準時間
A 2分

次の〈設例〉により相続人を求めなさい。

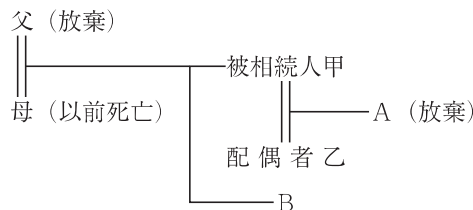
〈設例 1〉



〈設例 2〉



〈設例 3〉



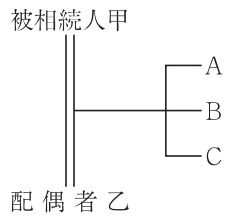
解 答 P. 79

問題 5 法定相続分

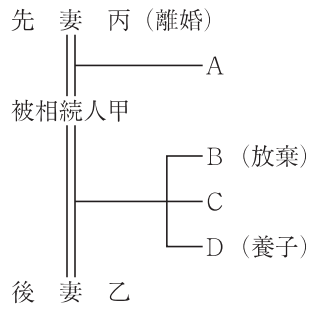
ランク 標準時間
B 8分

次の〈設例〉により相続人及びその相続分を求めなさい。

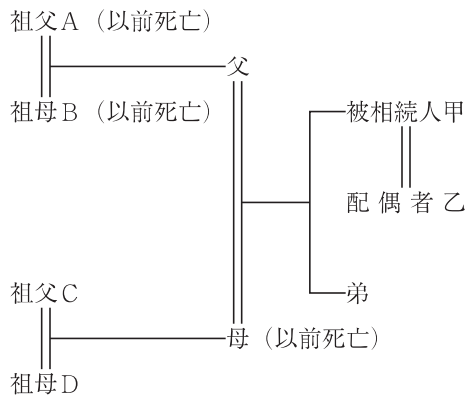
〈設例 1〉



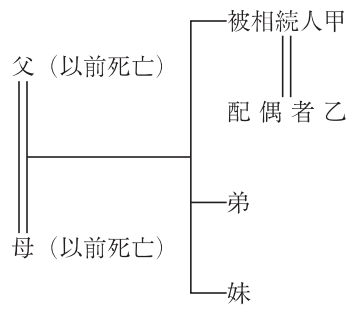
〈設例 2〉



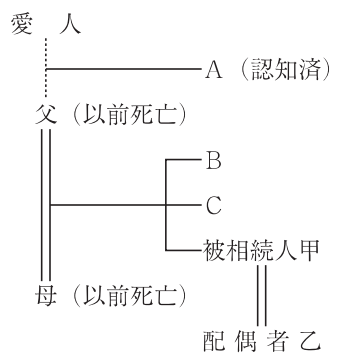
〈設例 3〉



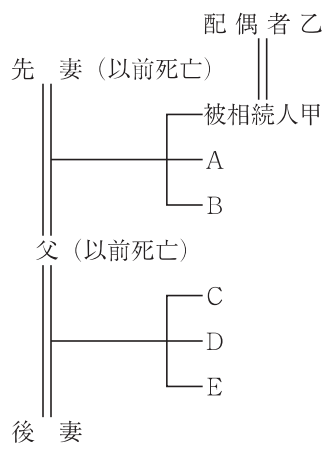
〈設例 4〉



〈設例 5〉



〈設例 6〉



解 答 P. 79

個別解答編

問題 1

解答

設 例 1	乙 A B 胎 児	設 例 2	乙 A B X
設 例 3	丙 A B	設 例 4	乙 B C
設 例 5	乙 A B	設 例 6	乙 母
設 例 7	乙 A B C	設 例 8	乙 A B X
設 例 9	乙 兄		

問題 2

解答

設 例 1	乙 A C	設 例 2	乙 B C D E X
設 例 3	乙 B C F	設 例 4	乙 D

問題 3

解答

設	乙
例	C

問題 4

解答

設	乙	設	乙
例	C	例	母
1		2	
設	乙		
例	B		
3			

問題 5

解答

	相 続 人	相 続 分		相 続 人	相 続 分
設	乙	$\frac{1}{2}$	設	乙	$\frac{1}{2}$
例	A · B · C	$\frac{1}{2} \times \frac{1}{3}$	例	A · C · D	$\frac{1}{2} \times \frac{1}{3}$
1			2		
設	乙	$\frac{2}{3}$	設	乙	$\frac{3}{4}$
例	父	$\frac{1}{3}$	例	弟 · 妹	$\frac{1}{4} \times \frac{1}{2}$
3			4		
設	乙	$\frac{3}{4}$	設	乙	$\frac{3}{4}$
例	A	$\frac{1}{4} \times \frac{1}{5}$	例	A · B	$\frac{1}{4} \times \frac{2}{7}$
	B · C	$\frac{1}{4} \times \frac{2}{5}$		C · D · E	$\frac{1}{4} \times \frac{1}{7}$
5			6		